

3h	مدة الإنجاز	علوم الحياة والأرض	المادة
5	المعامل	شعبة العلوم التجريبية مسلك العلوم الفيزيائية	الشعبة أو المسلك


يسمح باستعمال الآلة الحاسبة غير القابلة للبرمجة

المكون الأول: استرداد المعارف (6 نقط)

- I. عرف (ي) المصطلحين الآتيين : كرة ذات شمراخ – مركب الأكتوميوزين. (1 ن)
- II. انقل (ي) ثم أتمم (ي) تفاعل تشكل الأسيتيل كوانزيم A الآتي: (0.75 ن)
- + NAD⁺ + CoA → CH₃CO-CoA + +
- III. يوجد اقتراح صحيح بالنسبة لكل معطى من المعطيات المرقمة من 1 إلى 4. أنقل (ي) الأزواج (1 ، ...) ؛ (2 ، ...) ؛ (3 ، ...) ؛ (4 ، ...) على ورقة تحريك، ثم اكتب (ي) داخل كل زوج الحرف المقابل للاقتراح الصحيح. (2 ن)

<p>2- تعطي الأكددة التنفسية لجزيئة واحدة من حمض البيروفيك :</p> <p>أ. 2ATP ؛</p> <p>ب. 12ATP ؛</p> <p>ج. 15ATP ؛</p> <p>د. 36ATP .</p>	<p>1- الغشاء الخارجي للميتوكوندريات :</p> <p>أ. غني ببروتينات السلسلة التنفسية؛</p> <p>ب. يشبه الغشاء السيتوبلازمي؛</p> <p>ج. له امتدادات على شكل أعراف؛</p> <p>د. غني بـ ATP سنناز.</p>
<p>4- يتم التنفس الخلوي عبر تسلسل المراحل الآتية:</p> <p>أ. انحلال الكليكوز ← دورة كريبس ← تشكل الأسيتيل كوانزيم A ← التفسفر المؤكسد؛</p> <p>ب. انحلال الكليكوز ← تشكل الأسيتيل كوانزيم A ← دورة كريبس ← التفسفر المؤكسد؛</p> <p>ج. انحلال الكليكوز ← تشكل الأسيتيل كوانزيم A ← التفسفر المؤكسد ← دورة كريبس؛</p> <p>د. انحلال الكليكوز ← دورة كريبس ← التفسفر المؤكسد ← تشكل الأسيتيل كوانزيم A.</p>	<p>3- داخل خلية للعضلة الهيكلية المخططة، أيونات الكالسيوم:</p> <p>أ. تثبت على رؤوس الميوزين أثناء التقلص؛</p> <p>ب. تسمح بارتباط خييطات الأكتين فيما بينها؛</p> <p>ج. تسمح بارتباط خييطات الميوزين فيما بينها؛</p> <p>د. تخزن في الشبكة الساركوبلازمية عند انتهاء التقلص.</p>

IV. تمثل الوثيقة أسفله، ملاحظة مجهرية لجزء من اللييف العضلي.



أعط الاسم المناسب لكل بنية من البنيات المشار إليها بالأرقام 1 و 2 و 3 و 4 و 5. (1.25 ن)

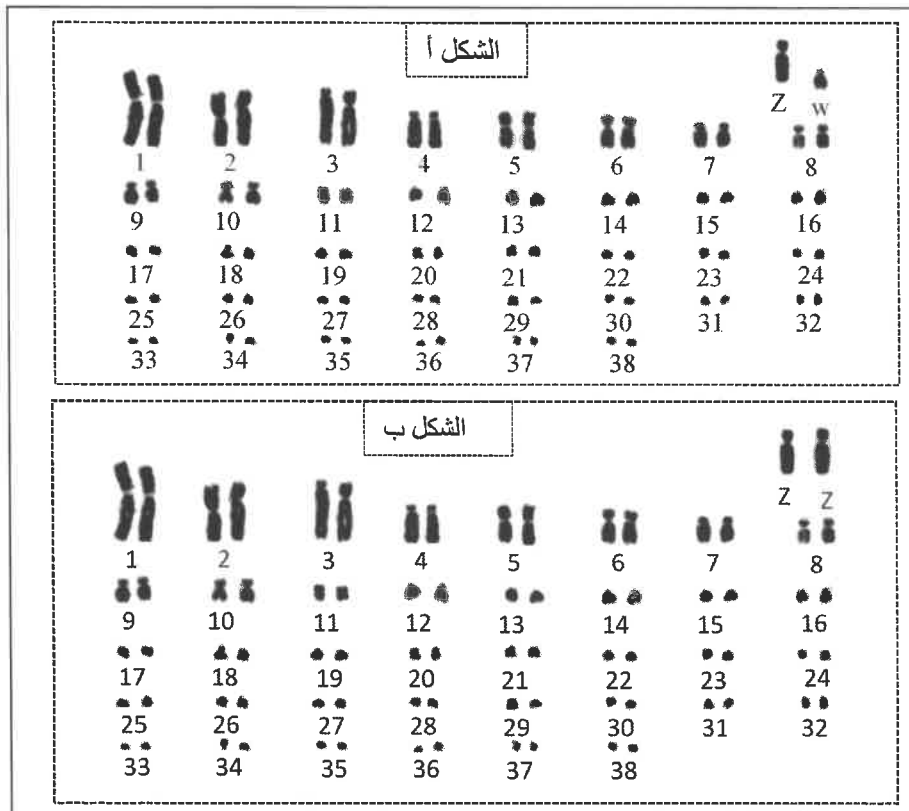
7. أنقل (ي) على ورقة تحريرك الأزواج (1،.....) و (2،.....) و (3،.....) و (4،.....)، ثم أنسب (ي) لكل رقم من أرقام المجموعة 1 الحرف المناسب له من المجموعة 2. (1 ن)

المجموعة 1	المجموعة 2
1. الحرارة المتأخرة	أ. تفاعلات الأكسدة اختزال لحققة كريبس.
2. الحرارة البدئية	ب. تفاعلات الأكسدة اختزال التي تتم على مستوى السلسلة التنفسية.
3. تشكل ممال H^+	ج. تركيب ATP انطلاقا من التفاعلات الاستقلابية الحي هوائية.
4. انتاج ثنائي أكسيد الكربون	د. تركيب ATP انطلاقا من الفوسفوكرياتين.

المكون الثاني: الاستدلال العلمي والتواصل الكتابي والبياني (14 نقطة)

التمرين الأول: (4 نقط)

قصد دراسة كيفية انتقال بعض الصفات الوراثية عند الدجاج، نقترح المعطيات الآتية:
تقدم الوثيقة 1 الخريطة الصبغية عند الدجاج من نوع Coucou de malines، حيث يمثل الشكل (أ) الخريطة الصبغية للدجاجة ويمثل الشكل (ب) الخريطة الصبغية للديك.



الوثيقة 1

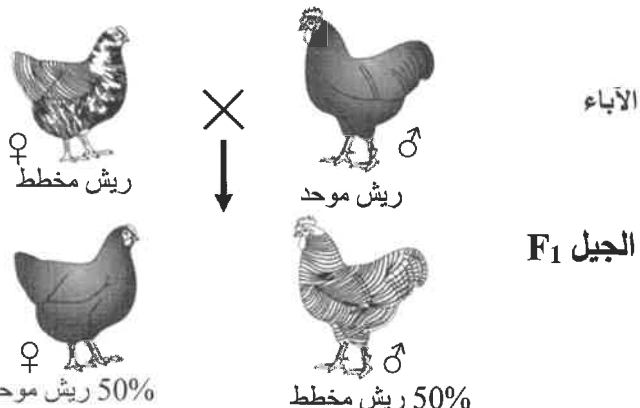
1. قارن (ي) الخريطين الصبغيتين المقدمتين في الوثيقة 1، وأعط الصيغة الصبغية لكل من الدجاجة والديك. (1.5 ن)

عند الدجاج من نوع Coucou de malines، يكون الريش إما بلون موحد (أسود متجانس) أو بلون مخطط (مخطط بالأبيض والأسود). نفترض أن صفة الريش المخطط عند هذا النوع من الدجاج يتحكم فيها زوج من الحليلات محمولة على صبغي لا جنسي.


للتحقق من هذه الفرضية، أنجزت سلسلة من التزاوجات: التزاوجين 1 و 3 بين دجاجات وديكة من سلالات نقية تختلف من حيث لون الريش، والتزاوجين 2 و 4 بين دجاجات وديكة من الجيل F_1 . تقدم الوثيقة 2 نتائج هذه التزاوجات.

الوثيقة 2

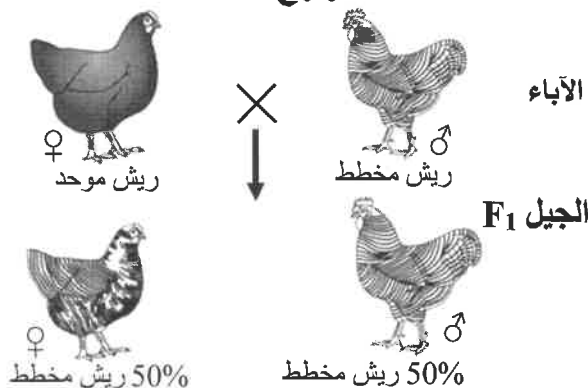
التزاوج 1:



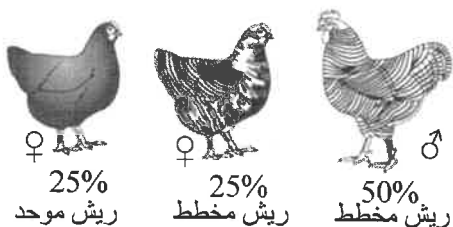
التزاوج 2: بين دجاجات وديكة من الجيل F₁ أعطى خلفا F₂ يتكون من:



التزاوج 3:



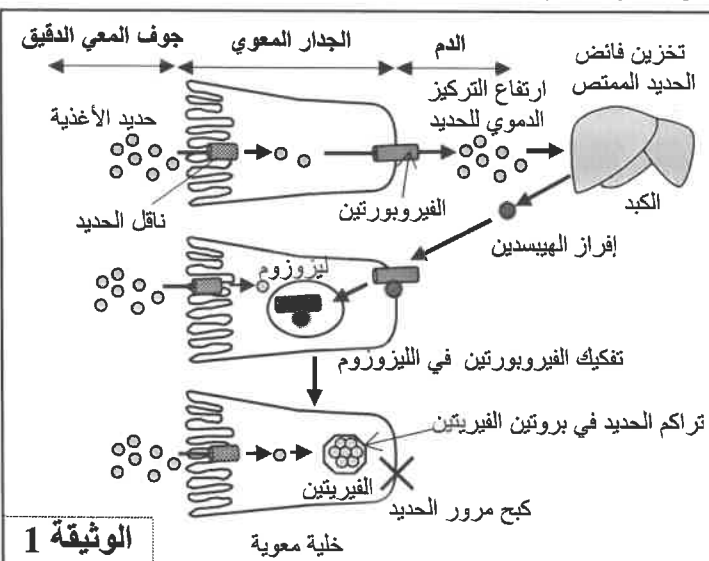
التزاوج 4: بين دجاجات وديكة من الجيل F₁ أعطى خلفا F₂ يتكون من:



2. باستغلالك للمعطيات السابقة، تحقق (ي) من الفرضية المقترحة مبينا (ة) كيفية انتقال الصفة المدروسة ثم أعط التفسير الصبغي للتزاوجات 1 و 2 و 3 و 4 مستعينا بشبكة التزاوج. (2.5 ن)
استعمل (ي) الرموز B أو b للتعبير عن ريش مخطط و N أو n للتعبير عن ريش موحد.

التمرين الثاني: (4 نقاط)

قصد تحديد العلاقة مورثة صفة، نقترح دراسة أصل مرض وراثي يدعى الصباغ الدموي l'hémochromatose، الذي يؤدي عند الإنسان إلى تراكم تدريجي للحديد على مستوى الكبد والبنكرياس والقلب.



الوثيقة 1

يعتبر الحديد معدنا أساسيا يتدخل في العديد من التفاعلات الاستقلابية، إلا أنه يصبح ساما عندما يتجاوز تركيزه القيمة العادية في الجسم. يبقى مخزون الحديد متناسبا مع حاجيات الجسم بفضل تأثير بروتين الهيبسدين Hcpidine المفرز من طرف الكبد والذي يتدخل في تنظيم امتصاص الحديد الغذائي على مستوى الخلايا المعوية. تقدم الوثيقة 1 العناصر المتدخلة في هذا التنظيم.

1. انطلاقا من الوثيقة 1، صف (ي) آلية تنظيم مخزون الحديد في الجسم، ثم استنتج (ي) تأثير الهيبسدين. (1 ن)

يتم تركيب بروتين الهيبسدين على مستوى الكبد بتدخل بروتين يدعى HFE. وتتحكم في تركيب هذا البروتين مورثة HFE تتموضع على مستوى الصبغي رقم 6، وتوجد على شكل حليلين:

- تحليل HFE متوحش يتحكم في تركيب بروتين HFE عادي يسمح للشخص السليم بتركيب الهيبسدين بشكل عادي.
 - تحليل HFE طافر يتحكم في تركيب بروتين HFE غير عادي يحدث خلافا في تركيب الهيبسدين عند الشخص المصاب بالصبغ الدموي.

تقدم الوثيقة 2 متتالية النيكلويدات الرامزة للحليلين HFE (الخيطة غير المنسوخ) وتقدم الوثيقة 3 جدول الرمز الوراثي.

	278	279	280	281	282	283	284		
	CAG	AGA	TAT	ACG	TGC	CAG	GTG		رقم الثلاثية: الحليل HFE المتوحش:
	CAG	AGA	TAT	ACG	TAC	CAG	GTG		الحليل HFE الطافر:

الوثيقة 2

	U		C		A		G		
U	UUU	Phe	UCU	Ser	UAU	Tyr	UGU	Cys	U
	UUC		UCC		UAC		UGC		C
	UUA	Leu	UCA		UAA	Stop	UGA	Stop	A
	UUG		UCG		UAG		UGG	Trp	G
C	CUU	Leu	CCU	Pro	CAU	His	CGU	Arg	U
	CUC		CCC		CAC		CGC		C
	CUA		CCA		CAA	CGA	A		
	CUG		CCG		CAG	CGG	G		
A	AUU	Ile	ACU	Thr	AAU	Asn	AGU	Ser	U
	AUC		ACC		AAC		AGC		C
	AUA		ACA		AAA	AGA	A		
	AUG	Met	ACG		AAG	Lys	AGG	Arg	G
G	GUU	Val	GCU	Ala	GAU	Ac.asp	GGU	Gly	U
	GUC		GCC		GAC		GGC		C
	GUA		GCA		GAA	GGA	A		
	GUG		GCG		GAG	GGG	G		

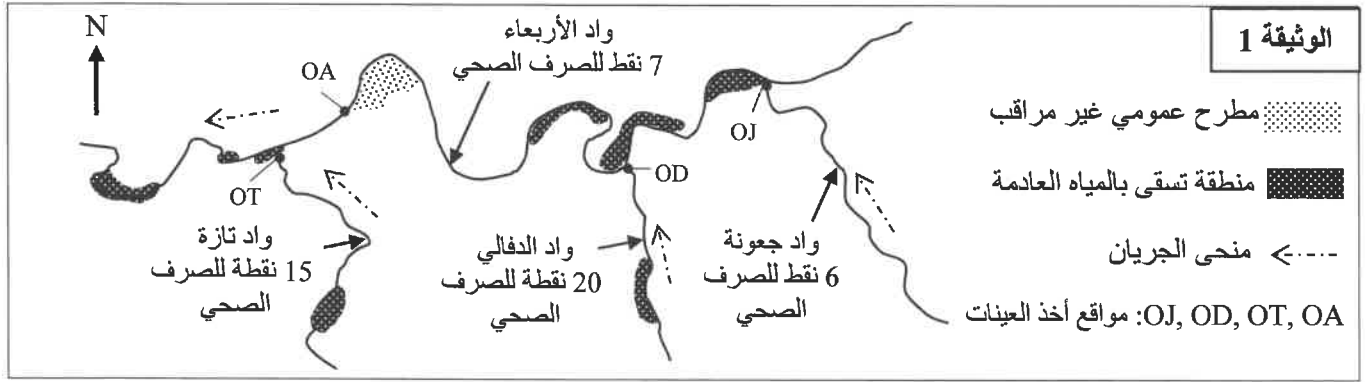
الوثيقة 3

2. اعتمادا على الوثيقتين 2 و 3، حدد(ي) متتالية الأحماض الأمينية للبروتين HFE المقابلة لكل من الحليل HFE المتوحش والحليل HFE الطافر. (1ن)
3. باعتمادك على المعطيات السابقة، فسّر(ي) أصل مرض الصبغ الدموي موضحة(ة) العلاقة مورثة صفة. (2 ن)

التمرين الثالث: (6 نقاط)

خلال العقود الأخيرة عرفت منطقة تازة، المتواجدة في الشمال الشرقي للمغرب، نموا فلاحيا مهما وتزايدا ديموغرافيا ملحوظا. تتوفر مدينة تازة على مطرح عمومي غير مراقب، ويتم تصريف المياه العادمة للمدينة مباشرة في واد الأربعاء وواد الدفالي وواد جعونة وواد تازة. تستعمل مياه هذه الوديان لسقي المزروعات المعيشية في المناطق المجاورة لها. قصد تقييم آثار هذه النفايات على البيئة والزراعة والصحة نقترح المعطيات الآتية:

تقدم الوثيقة 1 خريطة مبسطة تبين موقع تواجد المطرح العمومي، ونقط صرف المياه العادمة لمدينة تازة، والمناطق المسقية بهذه المياه، وكذا مواقع أخذ العينات (OA و OJ و OD و OT) من مختلف الوديان المجمعة التي تصرف فيها المياه العادمة.



في سنة 2012 أنجزت تحاليل فيزيائية وكيميائية وميكروبيولوجية لمياه السقي المأخوذة من الوديان المجمعة للمياه العادمة بمدينة تازة (الوثيقة 1)، يلخص جدول الوثيقة 2 النتائج المحصل عليها.


القيم المرجعية *	OT (واد تازة)	OA (واد الأربعاء)	OD (واد الدفالي)	OJ (واد جعونة)	المواقع	المتغيرات
800	1200	5873	4000	2800		الموصلية (μS/cm)
8	400 - 800	1300 - 1800	800 - 1300	800 - 1300		(mg O ₂ /L) DBO5
5	22	70	--	4		الحديد (mg/L) Fe
1000	1600	75.10 ⁷	7500	5300		البكتيريا القولونية البرازية (بكتيريا في 100mL)

موصلية المياه: تمكن من تقدير كمية الأملاح الذائبة في الماء.

* القيم القصوى المسموح بها في المياه الموجهة للسقي السطحي حسب المعايير المغربية.

الوثيقة 2

يصنّف مبيان Wilcox مياه السقي انطلاقا من قدرتها القلانية (نسبة احتفاظها بالصوديوم SAR) بدلالة موصليتها الكهربائية. تعطي الوثيقة 3 تمثيلا لمختلف مواقع أخذ العينات المدروسة للوديان المجمعة للمياه العادمة بمدينة تازة على مبيان Wilcox.



1. أ- باعتمادك على الوثيقتين 1 و 2، قارن (ي) متخيرات مياه الوديان المجمعة للمياه العادمة لمدينة تازة مع القيم المرجعية. (1.5 ن)

1. ب- باعتمادك على الوثيقة 3، حدد (ي) صنف مياه السقي المأخوذة من مختلف وديان مدينة تازة. (1 ن)

1. ج- فسّر (ي) درجة جودة المياه على مستوى الموقع OA. (1 ن)

يستعمل بعض الفلاحين بنواحي مدينة تازة، المياه العادمة لسقي مزرعاتهم من الخضروات. لتوضيح آثار استعمال المياه العادمة على المردود الزراعي وصحة المستهلكين نقترح المعطيات الآتية:

تعطي الوثيقة 4 نتائج دراسات تهم مردود بعض المزروعات حسب مياه السقي المستعملة (الشكل أ) ومعايرة المعادن الثقيلة ونوعين من البكتريات في الأجزاء المستهلكة من نبتة الخس (الشكل ب) مسقية بمياه عادمة وأخرى مسقية بمياه السد، ووصفا لوضعية الأمراض المنقولة بواسطة المياه بعمالة تازة ما بين سنتي 2001 و 2005 (الشكل ج).

خس مسقي بـ		الخصائص (µg/g)	الشكل ب		
مياه السد	مياه عادمة		مياه الأمطار	مياه السد + أسمدة	مياه عادمة
0.1	0.3	الخصائص (µg/g)	8	53	57
1.2	5.8	الحديد (µg/g)	0	285	356
67	3.22 10 ⁴	البكتيريا القولونية البرازية (بكتيريا في 1g)	القيم بالقططار في الهكتار الواحد		
0	2.84 10 ³	بكتيريا الكلوسترديوم المعوية (بكتيريا في 1g)	الشكل أ		

صنفت عمالة تازة من بين المناطق الأكثر عرضة لخطر الأمراض المنقولة بواسطة المياه خلال الفترة الممتدة ما بين 2001 و 2005، خصوصا التيفويد والتهاب الكبد A، والتي تنتشر بالخصوص في التجمعات السكنية الكبيرة غير مكتملة التجهيز بشبكة التطهير السائل. أضف إلى ذلك أن سقي المزروعات المعيشية بواسطة المياه العادمة في المناطق المجاورة لمدينة تازة يساهم في انتشار هذه الأمراض.

الشكل ج

الوثيقة 4

2. باستعمالك لأشكال الوثيقة 4:

- بين (ي) تأثير استعمال المياه العادمة على مردودية المزروعات وجودتها. (1.5 ن)
- فسر (ي) وضعية الأمراض المنقولة بواسطة المياه المسجلة بمنطقة تازة. (0.5 ن)
- اعتمادا على إجاباتك السابقة ومكتسباتك، اقترح (ي) حلين مناسبين للمشكل المطروح بمنطقة تازة ما بين 2001 و 2005. (0.5 ن)