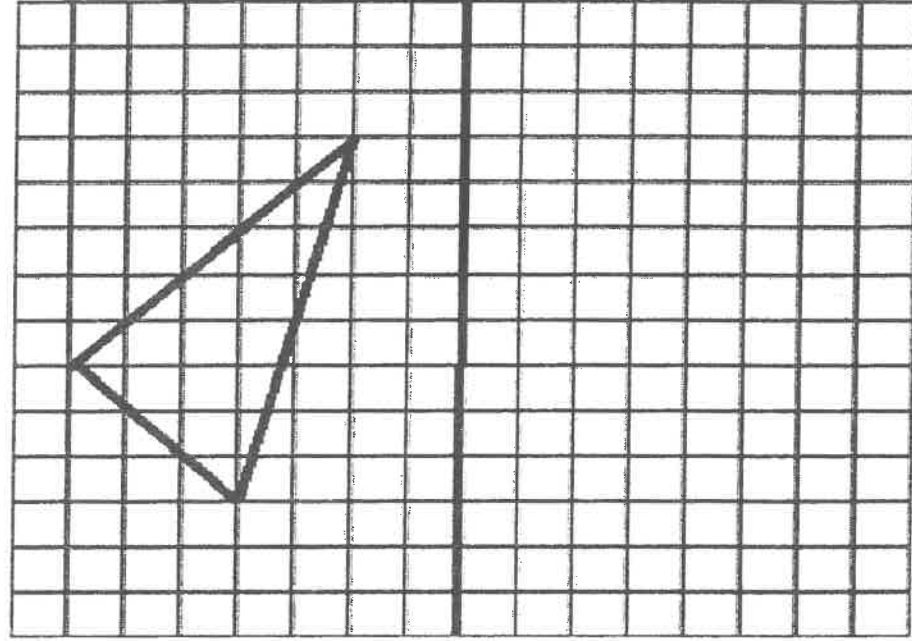


(7) أنشئ ممائل الشكل بالنسبة لمحور التماثل (D) (2ن)



(D)

(8) مسألة: (3ن)

اشترى فلاح بستانا مستطيل الشكل طوله 100m بثمن قدره 350000 درهم. احسب ما يلي:
أ. مساحة البستان بالمتر المربع إذا علمت أن عرضه يساوي نصف طوله؛ (2ن)
ب. ثمن المتر المربع الواحد بالدرهم. (1ن)

ثالثا: المجال الرئيسي الثالث: أنشطة القياس (13 نقطة)

(9) حول إلى الوحدة المطلوبة: (10ن)

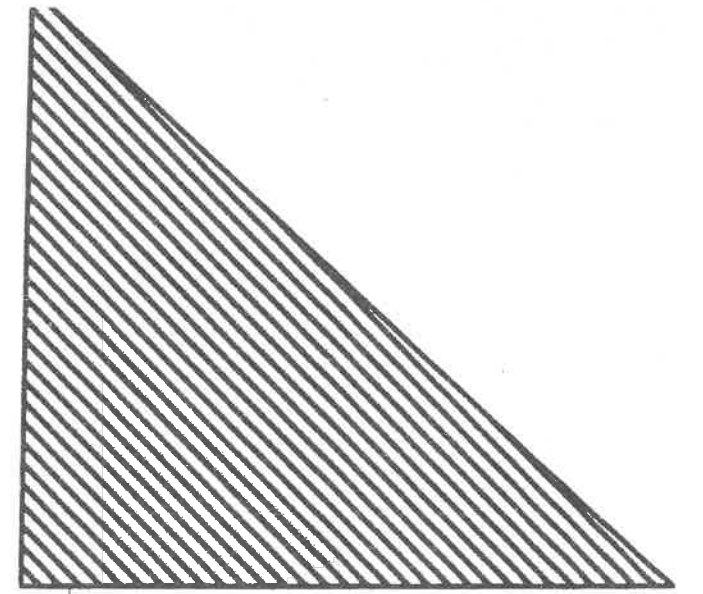
7,5 m 83 cm = dam (2,5 ن)
17 kg 28,7 dag =hg (2,5 ن)
26,9 ca 48 cm² =dm² (2,5 ن)
37 l 27,4 m² =L (2,5 ن)

(10) مسألة: (3ن)

برميل ماء على شكل أسطوانة شعاع قاعدته 5 dm و ارتفاعه 12 dm .
أ. احسب حجم هذا البرميل بـ dm³ ؟ (1ن)

.....
.....
.....
.....
ب. ما هي سعة الماء المتبقية باللتر بعد استهلاك $\frac{2}{3}$ (ثلثين) من حجمه ؟ (2ن)
.....
.....
.....
.....

مجموع
نقط
الصفحة



.....
.....
.....
.....


ثانيا: المجال الرئيسي الثاني: أنشطة الهندسة (11 نقطة) :

(5) أنشئ الزاوية \widehat{IJK} قياسها 130° و حدد طبيعتها (2ن)



(6) أنشئ المثلث ABC قائم الزاوية في \widehat{A} بحيث قياس الزاوية $\widehat{ABC} = 30^\circ$ و الضلع $AB = 5cm$

(2ن)



أ. ما هو قياس الزاوية \widehat{C} ؟ (1ن)

ب. ارسم منصف الزاوية \widehat{BAC} ؟ (1ن)

يمنع على المترشح أن يمضي ورقته أو يجعل أية علامة يمكنها أن تبين أصله

مجموع
نقط
الصفحة

خاتم المرز

الامتحان الموحد الإقليمي لجيل خصاصة الدروس الابتدائية

دورة يونيو 2019

مادة: الرياضيات مدة الإنجاز: ساعة و نصف

النقطة النهائية

رقم ورشة التصحيح:

اسم و توقيع منسق الورشة ومقر عمله:

10

بالحروف

مركز التصحيح:

أولاً: المجال الرئيسي الأول: أنشطة عددية (16 نقطة)

(1) أرتب الأعداد التالية ترتيباً تزايدياً: (2,5ن)

$$13,85 - 8,790 - 13,7 - 13 - \frac{120}{10}$$

(2) أضع و أنجز العمليات التالية عمودياً:

$9786,54 - (3498,25 + 2947) =$ (2,5ن)	$579 \times 43,6 =$ (2,5ن)	$617,5 \div 25 =$ (2,5ن)

(3) أحسب (أختزل إن أمكن): (2,5ن)

$$\left(\frac{2}{3} + \frac{3}{6}\right) \times \left(\frac{7}{2} - \frac{4}{3}\right) =$$

(4) مسألة: (3,5ن)

في سباق للدراجات، قطع دراجي مسافة 75km بسرعة 25km/h .

أ. ما هي المدة التي استغرقها لقطع هذه المسافة؟ (1,5ن)

ب. ما هي ساعة وصوله إذا علمت أنه انطلق على الساعة 8h30 ؟ (2ن)

مجموع
نقط
الصفحة

يمنع على المترشح أن يمضي ورقته أو يجعل أية علامة يمكنها أن تبين أصله